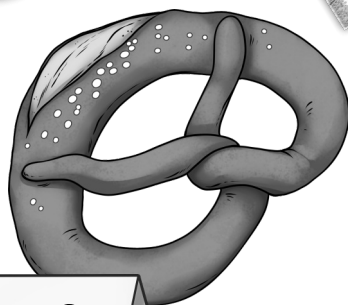




1 Tafel-Schokolade
10 Lollis
1 Apfel



Geld-Heft von



2 €

Klasse 2

In diesem Heft sollst du alles sammeln, was du zum Geld lernst.

Arbeite sauber und ordentlich!

Das Heft musst du bei der Lehrerin abgeben.

Unser Geld - der Euro

Bei unserem Geld gibt es Münzen und Scheine.

Münzen sind rund und aus Metall.

Scheine sind rechteckig und aus Papier.



Scheine

Münzen

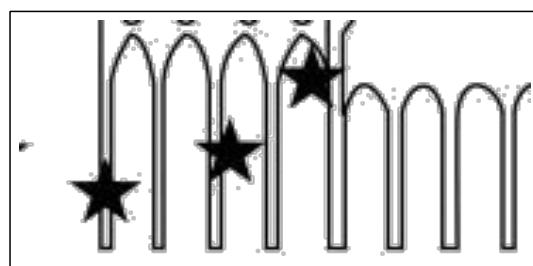
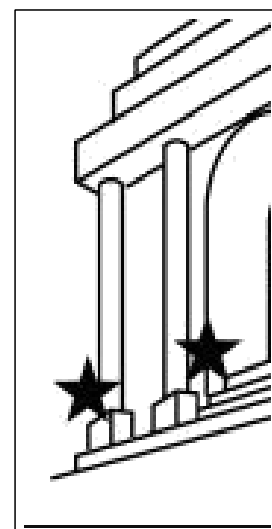


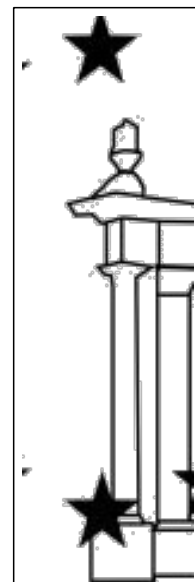
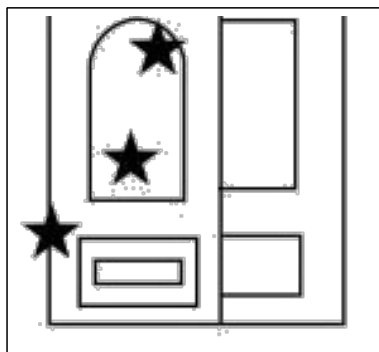

Unsere Geldscheine



Hier siehst du Teile aus unseren Scheinen.

Schreibe in das Kästchen unter dem Bild, welche Zahl auf dem Schein steht.

Die Seite 1 hilft dir.



Unsere Euro-Münzen



Suche dir die Euro-Münzen und Cent-Münzen aus dem Geldbeutel oder Sparschwein.


Lege sie unter dieses Blatt und male mit einem Bleistift an der Stelle, wo die Münzen liegt, darüber. Wenn du es richtig machst, drückt sich das Bild der Münze so auf das Papier. Es macht nichts, wenn du dabei über den Rand der Münze malst.

Probiere es so oft, bis du von jeder Münze einen guten Abdruck von der Vorderseite und von der Rückseite hast.

Euro

Cent

Euro



Wie viel Geld ist das?

Wie viele Euro siehst du in dem Kästchen? Schreibe die Summe daneben!

Euro	Summe
	23 €

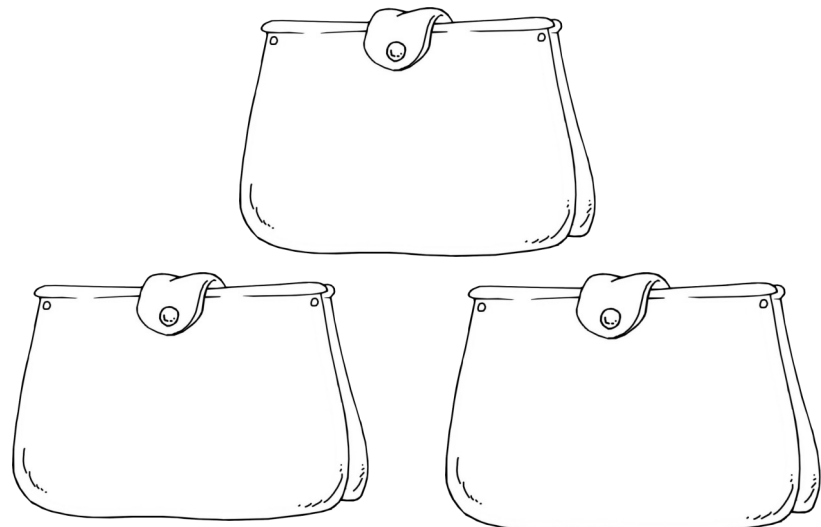

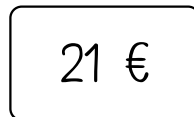
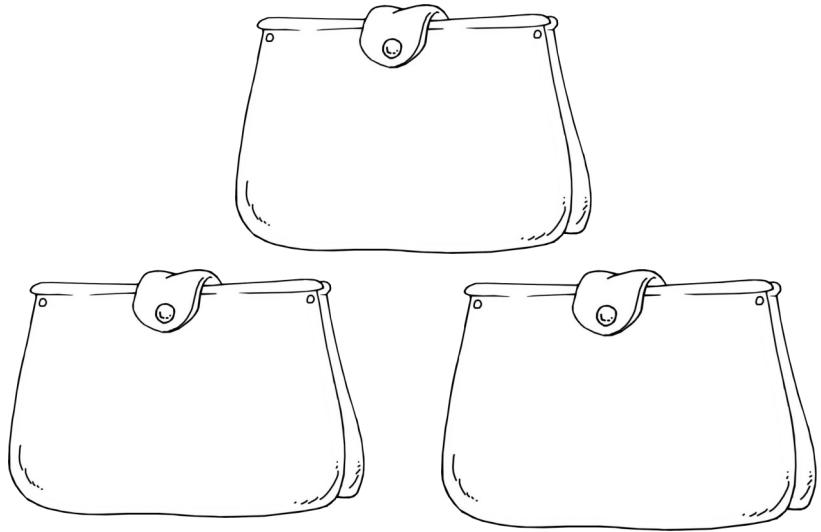

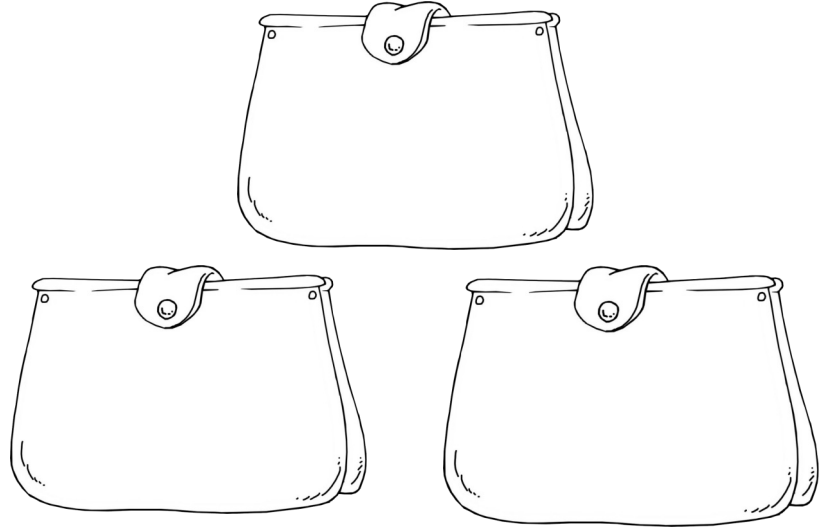
Euro



Eine Summe - viele Möglichkeiten

Du kannst jede Euro-Summe auf verschiedene Weise aus Münzen und Scheinen zusammensetzen.

Finde immer 3 verschiedene Möglichkeiten, den Gegenstand zu bezahlen!



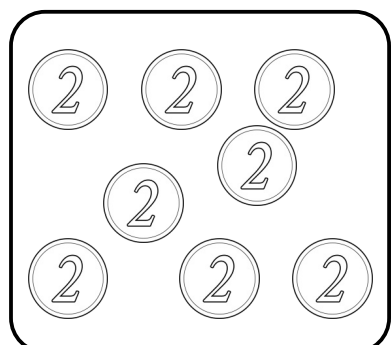









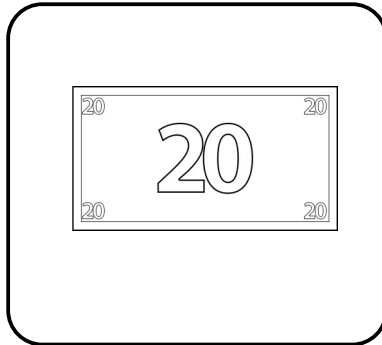
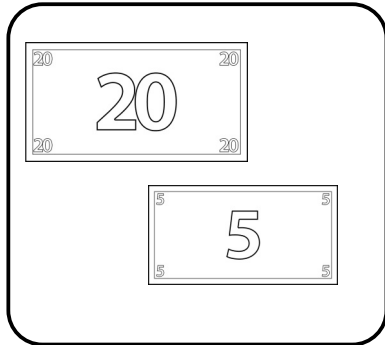
Euro

6

Was passt zusammen?

Immer 3 Bilder zeigen die gleiche Euro-Summe. Schreibe die Summe unter jedes Bild.

Male die gleichen Summen in einer Farbe an.






















Cent

Geldsummen legen

Du kannst auch jede Cent-Summe auf verschiedene Weise aus Münzen zusammensetzen.



10 ct

	 	    	          
1	2	3	4

20 ct

1	2	3	4

30 ct

1	2	3	4

12 ct

1	2	3	4

★ 1€ = 100ct

1	2	3	4


Cent

8

Immer ... ct


Kreise die Münzen so ein, dass in deinem Kreis immer genau 50 ct sind.

Immer 15 ct



Kreise die Münzen so ein, dass in deinem Kreis immer genau 60 ct sind.

Immer 25 ct



★ Cent



Immer 1 €

Kreise die Münzen so ein, dass in deinem Kreis immer genau 100ct = 1 € sind!

Merke dir: 100 ct = 1 €!

Cent



Wie viel Geld ist das?

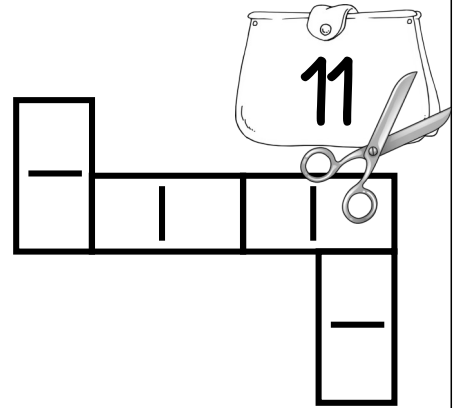
Wie viele Cent siehst du in dem Kästchen? Schreibe die Summe daneben!

Euro	Summe
	23 ct

Cent

Welche Cent-Beträge sind gleich?

Klebe das Domino in der richtigen Reihenfolge hier auf.







Geldsummen mit Euro und Cent bestimmen

Meistens hat man im Geldbeutel Euro-Münzen und Cent-Münzen.
Und die meisten Dinge, die wir kaufen, kosten auch Euro und Cent.

Wenn du herausfinden willst, wie viel Geld in dem Sparschwein ist, zählst du Euro und Cent getrennt voneinander.

Manchmal hast du aber so viele Cent, dass du beim Rechnen daraus Euros machen kannst.

Vergiss nicht: immer 100 ct sind 1 €!



Euro und Cent

Geldsummen mit Euro und Cent legen

Lege die Geldsummen mit den ausgeschnittenen Münzen und Scheinen! Rechne nach!

Wenn das Ergebnis stimmt, klebe das Geld auf!



4€ 15 ct

20€ 21ct

15€ 30ct


18€ 3ct

26€ 11ct

Euro und Cent

Euro- oder Cent-Beträge?


Klebe das Domino in der richtigen Reihenfolge hier auf.



Euro und Cent

15

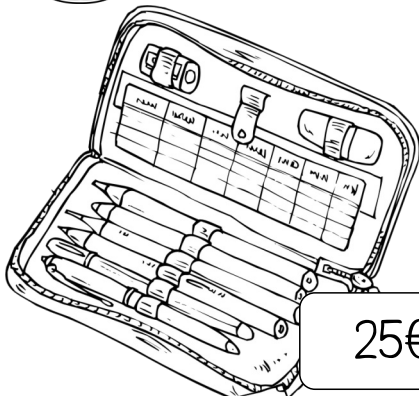
Verbinde die Waren mit dem Geldbeutel, der genau den richtigen Betrag enthält. Nimm für jedes Paar eine andere Farbe! Ein Geldbeutel ist falsch.



7€ 9ct




2€ 17ct









25€ 30ct



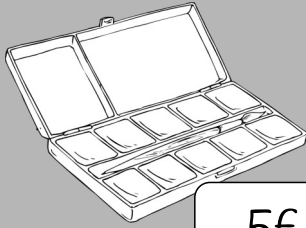
0€ 25ct




17€ 10ct



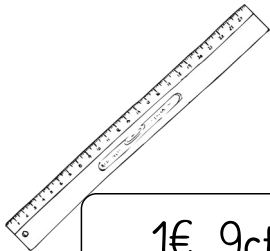
Wie kannst du den Betrag bezahlen? Male Münzen und Scheine!



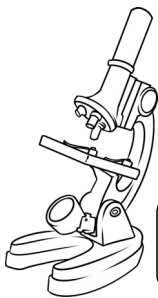
5€ 20ct




7€ 10ct



1€ 9ct



29€ 30ct

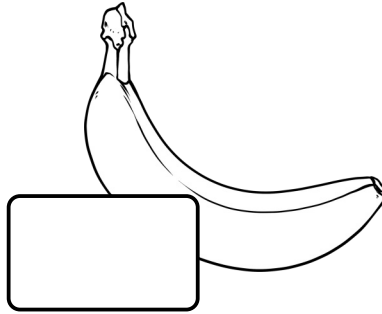
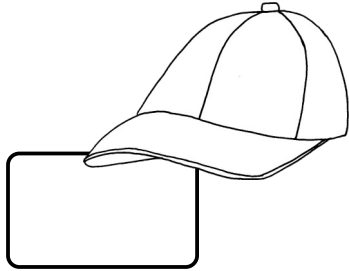


7€ 25ct


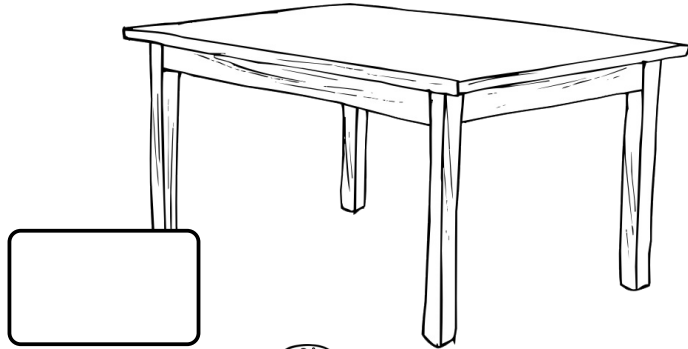
Euro und Cent

Wie viel kostet...?

Welcher Preis gehört zu welchem Gegenstand? Schreibe den richtigen Preis auf das Preisschild und streiche ihn in der Liste durch!



Preise
50 ct
1 €
3 €
12 €
100 €




Kann das stimmen?	ja	nein
Ein kleines Schreibheft kostet 7 €.		
Eine Paar neue Schuhe kostet 30 ct. .		
Ein Buch kostet mehr als 10 €.		
Eine Hose kostet 30 €.		
Ein Brötchen kostet 5 ct.		
Ein Brot kostet ungefähr 3 €.		
Ein Tüte Gummibärchen kostet fast 1 €.		


Einkaufen

Hier siehst du, wie viel Geld im Sparschwein ist. Ein Kind hat etwas Geld bekommen und steckt es in das Sparschwein.


Rechne aus, wie viel Geld danach im Sparschwein ist. Nutze unseren Rechenweg!




	1	6	+	1	5	=	3	1	c	t	
	1	6	+	1	0	=	2	6			
	2	6	+		4	=	3	0			
	3	0	+		1	=	3	1			




			+			=					
			+			=					
			+			=					
			+			=					




			+			=					
			+			=					
			+			=					
			+			=					



			+			=					
			+			=					
			+			=					
			+			=					



			+			=					
			+			=					
			+			=					
			+			=					



			+			=					
			+			=					
			+			=					
			+			=					


Mit Geld rechnen




Einkaufen

Hier siehst du, wie viel Geld im Geldbeutel ist. Auf dem Einkaufszettel steht, wie viel der Einkauf kostet.


Rechne aus, wie viel Geld nach dem Einkauf übrig ist. Nutze unseren Rechenweg!




	3	3	-	1	5	=	1	8	€
	3	3	-	1	0	=	2	3	
	2	3	-		3	=	2	0	
	2	0	-		2	=	1	8	



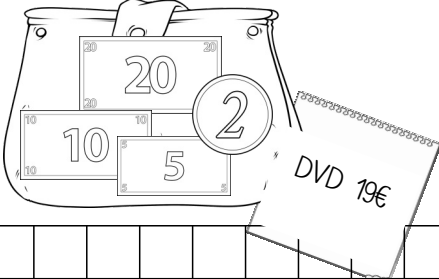
			-			=			
			-			=			
			-			=			
			-			=			




			-			=			
			-			=			
			-			=			
			-			=			



			-			=			
			-			=			
			-			=			
			-			=			



			-			=			
			-			=			
			-			=			
			-			=			



			-			=			
			-			=			
			-			=			
			-			=			

Besuch im Kino

Am Sonntag gehen viele Menschen ins Kino. Rechne aus, was jede Gruppe bezahlen muss!



KINOINFO:

Filmtitel	Beginn	Saal	Status
Verhext	14:45	1	WARTEN
Lego - Der Film	16:00	2	WARTEN
Verhext	17:30	1	WARTEN
Lego - der Film	18:00	2	WARTEN
Wunderbare Tiere	18:00	3	WARTEN
Verliebt	20:00	2	WARTEN

HEUTE






jede Person 5 €



Beispiel



2 · 5 = 10 €



Geld aufteilen

Teile das Geld auf, indem du die Münzen einkreist! Schreibe die Geteilt-Aufgabe dazu!

Immer 5 ct kommen in einen Beutel.
Wie viele Beutel brauchst du?

$30 : 5 = 6$

Immer 5 ct kommen in einen Beutel.
Wie viele Beutel brauchst du?

--	--	--	--	--	--	--	--

Immer 10 ct kommen in einen Beutel.
Wie viele Beutel brauchst du?

--	--	--	--	--	--	--	--

Immer 5 ct kommen in einen Beutel.
Wie viele Beutel brauchst du?

--	--	--	--	--	--	--	--

Immer 5 ct kommen in einen Beutel.
Wie viele Beutel brauchst du?

--	--	--	--	--	--	--	--

Immer 2 ct kommen in einen Beutel.
Wie viele Beutel brauchst du?

--	--	--	--	--	--	--	--

Anhang

Hier folgen die Ausschneide-
Vorlagen für das Heft.


Diese Seiten bitte nicht lochen
und abheften, sondern ungelocht
zu der passenden Seite im Heft
legen.

Ausschneide-Vorlage zu Seite




Schneide alle Münzen und Scheine aus! Klebe die Münzen in das kleine Kästchen!

Klebe die Scheine auf die freie Fläche.



Ausschneide-Vorlage zu der Seite



Domino

Schneide alle 10 Domino-Steine aus! Beginne mit dem START-Stein. Wie viel Cent siehst du? Suche den Stein mit dem gleichen Betrag auf einem grauen Feld und lege ihn an den Start-Stein. Wie viel Geld siehst du nun? Suche den passenden Stein und lege ihn an. Wenn du zum Schluss den ZIEL-Stein legen kannst, ist alles richtig. Klebe das Domino auf Seite 10.

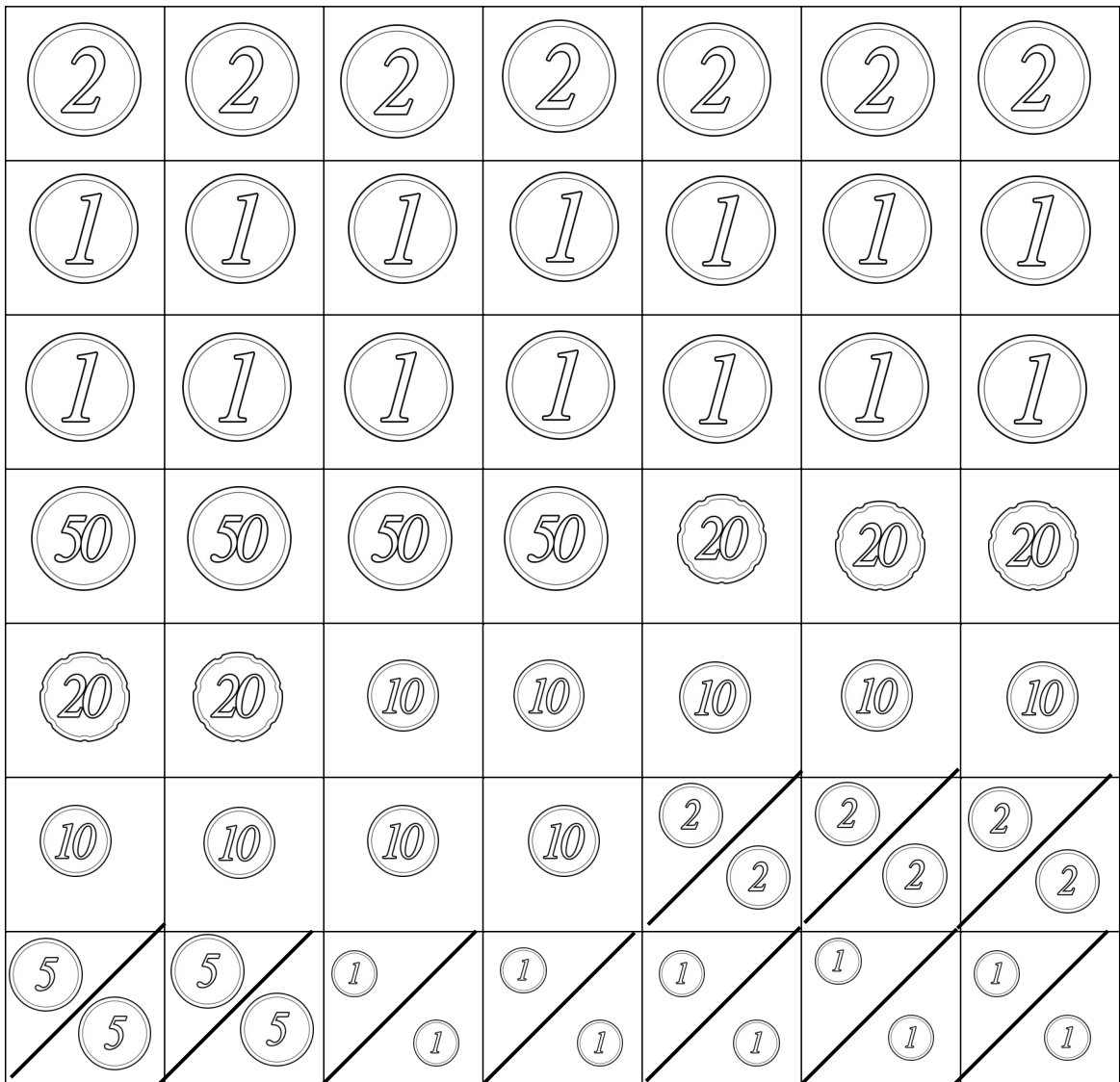

START			ZIEL

Ausschneide-Vorlage zu Seite




13

Schneide die Münzen und Scheine aus, die du brauchst!
 Lege die Geldbeträge auf Seite 17.



Ausschneide-Vorlage zu der Seite



Domino

Schneide alle 10 Domino-Steine aus! Beginne mit dem START-Stein. Wie viel Geld siehst du? Suche den Stein mit dem passenden Betrag und lege ihn an den Start-Stein. Wie viel Geld siehst du nun? Suche den passenden Stein und lege ihn an. Wenn du zum Schluss den ZIEL-Stein legen kannst, ist alles richtig. Klebe das Domino auf Seite 10.

START		0€ 23 ct	
21€ 22ct		12€ 2ct	
20€ 2ct		21€ 0ct	
2€ 22ct		21€ 2ct	ZIEL
2€ 2ct		12€ 20ct	